

一、选择题

近年来，海南省加快了农业产业结构调整步伐，着力构建出特色、高效现代农业产业体系，目前已累计调减甘蔗种植面积达 46.5 万亩，发展了热带水果、冬季瓜菜、南药、桑蚕等替代产业，亩均纯收入从不足 200 元增长到 3000 元左右。此外，还着力推进畜牧业转型升级，提高牛、羊和本地黑猪饲养比重，以此优化畜牧业布局，供给质量和效益均得到有效提升。据此完成 1~3 题。

- 与热带果蔬相比，甘蔗种植的特点是
 - 适应性强，劳动力消耗少
 - 一年一收割，单位面积产值低
 - 长期种植，导致土壤贫瘠
 - 耗水量大，水环境承载压力大
- 海南岛大规模种植热带瓜果和反季节蔬菜的主要原因是
 - 我国热带面积较少，且市场需求量大
 - 利于扬长避短，发挥地区优势
 - 瓜果、蔬菜抗台风、抗病虫害功能强
 - 岛上山地多平地少，耕地破碎
- 除大量种植瓜果蔬菜外，海南岛不断提高饲养业比重，其目的是
 - 调整产业结构，提升农业综合竞争力
 - 利用草原牧场，开辟国际市场
 - 延长农业产业链，增加产品的附加值
 - 农牧全面发展，防御寒潮侵袭

都市圈(区)是指由其核心作用的中心城市和周边受到中心城市强烈辐射、有着紧密联系的城市组成的城市经济区域。它是城市化发展到成熟阶段的最高空间组织形式。都市圈(区)的发育程度已成为衡量一个国家或地区社会经济发展水平的重要标志。下图为山东都市圈(区)分布图，据此完成 4~5 题。



- 山东省都市圈(区)的形成，得益于
 - 城市空间分布格局的变化
 - 生产要素的空间集聚
 - 跨区域的人口迁移
 - 快速化交通通信方式的兴起
- 山东省六大都市圈(区)的形成，有利于
 - 优化配置生产要素，形成优势互补的城市分工与协作
 - 加强中心城市的辐射带动作用，促进郊区城市化
 - 减轻大城市的土地承载压力，有效遏制环境恶化
 - 中小城市服务等级提高，建立多层次的城市空间网络

位于甘肃省东部庆阳市阳宁县境内的野王村(行政村)，蒲河经五道弯曲 贯穿全村而过，村中整体地貌呈“S”型奇特分布，各自然村星罗棋布，被蒲河分割包围，自成一体。野王村整体处于群山环抱之中，傍山依水，水依山而娇美，山傍水而奇险。下图示意野王村“S”型地貌局部。据此完成 6~7 题。



6. 穿越野王村而过的蒲河蜿蜒曲折，其主要原因是 ()
 A. 流水侧蚀作用 B. 流水下切作用 C. 流水溶蚀作用 D. 流水搬运作用
7. 河流对自然村落形成提供的有利条件是 ()
 ① 深厚肥沃的土壤 ② 便利发达的航运
 ③ 较高的平坦地形 ④ 充足的水源供应
 A. ①② B. ③④ C. ②③ D. ①④
8. 野王村的各自然村落一般坐落在
 A. 河流凸岸 B. 河流凹岸 C. 河流阶地 D. 河流两岸

非洲被称为高原大陆和热带大陆，下图示意非洲北部降水类型分布图。 据此完成 9~11 题。



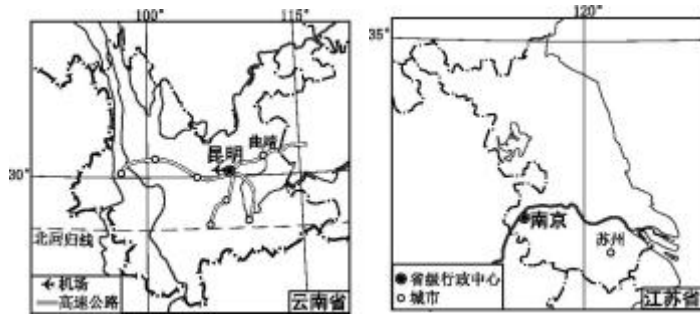
9. I 与 III 地区降水季节分配不同的主导因素是
 A. 洋流 B. 海陆位置 C. 地形地势 D. 大气环流
10. 图示 IV 沿岸地区多雾的形成条件是
 A. 海洋水汽来源充足 B. 加那利寒流流经沿岸
 C. 气温昼夜变化较大 D. 寒冷冬季风势力强大
11. II 地区极端干旱，表现为
 A. 物理风化强烈，砾石遍布 B. 动物随季节南北迁徙
 C. 地表水短缺，荒漠广布 D. 大牧场放牧业发达

二、非选择题

12. 阅读图文材料,回答下列问题:(24 分)

食用玫瑰喜光,生长期的适宜温度为 $15\sim 25^{\circ}\text{C}$,在云南、江苏(如图)等地均有种植。鲜花饼是以食用玫瑰入料的云南特色酥饼,酥软爽口、花香浓郁,起源于乾隆年间,原为宫廷御点,现已成为游客到云南旅游必带的伴手礼。H 公司在海拔 2 000m 的云南曲靖种植优质食用玫瑰,并传承古法制饼工艺烘焙鲜花饼,将销售点主要布局在昆明。

近年来,鲜花饼开始在江苏等地风靡。苏州糕饼生产厂家计划推出苏式鲜花饼,让人们不到云南也有机会品尝鲜花饼的美味。



(1)与苏州相比,分析曲靖食用玫瑰种植的有利自然条件。(6分)

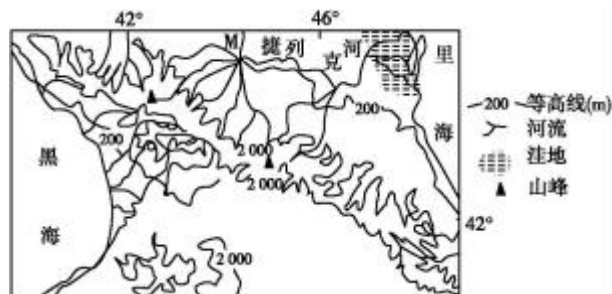
(2)与苏州相比,简述曲靖鲜花饼生产的优势区位。(6分)

(3)分析 H 公司将鲜花饼销售点布局在昆明的原因。(4分)

(4)苏式鲜花饼产业的良性发展需要各方的协同参与。请从糕饼生产厂家、花卉种植园、当地政府三方中任选一方,阐述其应采取的举措。(8分)

13. 阅读图文材料,回答下列问题:(22分)

捷列克河是俄罗斯北高加索东部河流,其河口三角洲面积约 4 000 平方千米,河上建有两座水电站。下图为捷列克河流域示意图。



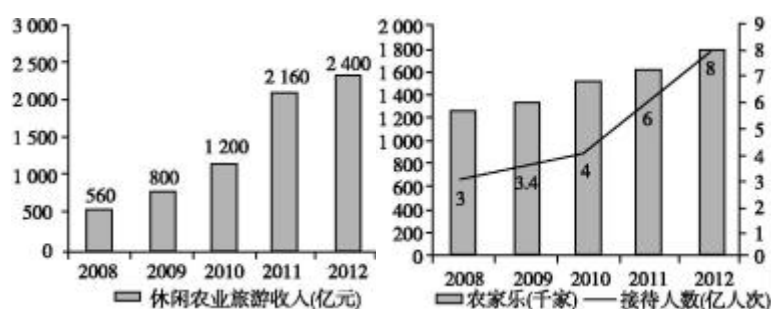
(1)说明捷列克河径流量主要来自 M 地以上河段的自然原因。(6分)

(2)简析捷列克河三角洲的形成原因。(8分)

(3)有人提议在捷列克河流域大力开发水电,你是否赞同?请表明观点,并说明理由。(8分)

14.【地理——选修3:旅游地理】(10分)

休闲农业是利用农业景观资源和农业生产条件,发展观光、休闲、旅游的一种新型农业生产经营形态,它以服务城市人口为目标。下图为中国2008~2012年休闲农业增长情况统计图。



分析我国休闲农业接待人数增多的原因,并简述休闲农业发展对我国乡村发展的积极影响。(10分)

15.【地理——选修6:环境保护】(10分)

滇池是云南省最大的淡水湖,素有“高原明珠”之美称,但近年来,滇池污染十分严重,被国务院列为重点治理的“三湖三河”之一。2016年2月27日下午,昆明市召开2016年滇池水污染防治暨草海治理攻坚工作推进会,安排布置2016年乃至“十三五”时期滇池治理各项工作,力争早日重现滇池水清岸绿河畅的美丽风采。

说明滇池的生态功能并分析滇池受污染后难以治理的主要原因。(10分)

1.B(解析:甘蔗喜水肥,喜光热,适宜在高温多雨的海南岛生长,甘蔗为一年一熟,单位面积产值较低。选项B正确。)

2.A(解析:我国热带面积较少,蔬菜和热带果蔬的市场需求量不断增长,海南省是我国热带面积最大的省份,因而海南岛大规模种植热带瓜果和反季节蔬菜以满足市场的需求。海南岛发展其他热带作物也能够发挥地区优势;瓜果、蔬菜抗台风、抗病虫害功能不强;海南岛有部分平整的台地和平原。选项A正确。)

3.A(解析:海南岛不断提高饲养业比重是为了农业产业多元化,调整优化产业结构,提升农业综合竞争力。海南岛自然牧场面积大;饲养业并没有延长产业链;农牧全面发展与防御寒潮侵袭之间不存在必然的因果关系。选项A正确。)

4.D(解析:由格局都市圈(区)的涵义可知,都市圈(区)内的各个城市之间联系密切,信息、资金、人口、物质流动交换频繁,得益于快速化的交通通信方式的兴起和发展。选项D正确。)

5.A(解析:都市圈(区)的最大特点是中心城市与周边城市之间经济联系密切,生产要素优化配

置，存在产业分工与合作。选项 A 正确。)

6.A(解析:穿越野王村的蒲河蜿蜒曲折，其主要原因是流水对河床的侧蚀作用。选项 A 正确。)

7.B(解析:河流的侵蚀与沉积为自然村落的建设提供了平坦的地形，并为村落的生存提供了水源。土壤好坏与农业生产有关，弯曲的河流未必提供发达便利的河运条件。选项 B 正确。)

8.A(解析:根据题意要求，首先明确什么是河流凸岸。河流凸岸为河流的沉积岸，这里地势较平坦，土层深厚肥沃，便于农耕，也节省建筑投资，且不存在河流因遭受侵蚀而塌陷的危险。选项 A 正确。)

9.D(解析: I 是北部冬雨型，是因为 I 地区冬季受南移的西风带控制，降水多;III是夏季多雨型，是由于III地区受北移的赤道低气压带的影响，降水多。因此造成 I 和III两地区降水季节分配不同的主要是所受的气压带和风带不同。洋流影响小，A 错;海陆位置和地形地势是稳定因素，不随季节发生变化，B、C 错。故选项 D 正确。)

10.B(解析:IV沿岸地区多雾的主要原因是沿岸流经加那利寒流。由于冷洋面的减温作用，使其上的水汽遇冷凝结，形成雾。选项 B 正确。)

11.C(解析:II 地区为撒哈拉大沙漠地区，这里气候极为干旱的表现一是地表水短缺，二是荒漠广布。荒漠中既有沙漠也有砾漠，但 A 项中的砾漠不如 C 项中荒漠表达完整，本题考查学生思维全面性。故选项 C 正确。)

12.解析:第(1)题,与苏州相比,曲靖食用玫瑰种植的有利自然条件主要从气候角度分析。由材料可知,食用玫瑰生长的适宜温度为 15~25℃,而苏州夏季气温高,冬季气温低,不利于食用玫瑰生长。曲靖位于云贵高原,由于纬度低,冬季气温高,夏季由于海拔的影响,气温低,适宜食用玫瑰的生长。第(2)题,曲靖鲜花饼生产的优势区位主要从土地、原料、劳动力、生产历史等工业区位因素角度分析。从土地来看,苏州经济发达,土地租金高,而曲靖土地租金较低。从原料看,曲靖种植食用玫瑰的条件优越,原料充足,且品质好。从劳动力看,曲靖劳动力工资水平低于苏州地区。从生产工艺看,历史悠久等有利于曲靖生产鲜花饼。第(3)题,H 公司将鲜花饼销售点布局在昆明的原因主要从市场及交通角度分析。从市场看,昆明为省会城市,人口众多,市场广阔。从交通条件看,交通枢纽和旅游城市,人流量大。从位置看,邻近曲靖,且有高速公路相连。第(4)题,苏式鲜花饼产业的良性发展需要各方的协同参与,每一方面都要从自身做起,为维护鲜花饼产业的良性发展尽职尽责。对政府来说,主要从基础设施、政策及技术和信贷制度及加强监管等方面考虑,具体包括完善基础设施,节省鲜花饼产业的生产建设成本,提供优惠政策和农业技术扶持,健全信贷与保险体系,减少花卉种植的受灾风险,加强花卉种植与制饼过程的监督管理,确保食品安全等。对鲜花饼的生产商来讲,应当从保证品质、开拓市场、加强营销、创造品牌等方面考虑。

答案:(1)曲靖纬度较低,海拔较高,光照较充足,夏季较凉爽,冬季较温暖且低温冷害影响较小。

(6 分)

(2)曲靖食用玫瑰品质较好;劳动力成本较低;土地租金较低;生产工艺独特。(6 分)

(3)昆明为省会城市,人口众多;交通枢纽和旅游城市,人流量大;邻近曲靖,且有高速公路相连,交通便利。(4 分)

(4)糕饼生产厂家:选择优质原料,确保鲜花饼品质;开展市场调研,研制符合当地口味的鲜花饼;开展市场营销,创建品牌;加强产品研发,开发其他花卉馅料的鲜花饼(如桂花饼)。花卉种植园:与当地糕饼店开展合作,扩大食用花卉种植规模;减少农药施用量,生产绿色食用花卉;加大科技投入,培育不同食用花卉品种;发展大棚种植等设施农业,增强抗灾能力,确保食用花卉全年供应。政府:完善基础设施,节省鲜花饼产业的生产建设成本;提供优惠政策和农业技术扶持;健全信贷与保险体系,减少花卉种植的受灾风险;加强花卉种植与制饼过程的监督管理,确保食品安全。(任选其一即可)(8 分)

13.解析:第(1)题,主要从 M 地以上河段与 M 地以下河段的支流数量、流域面积、地表水资源

的补给量等角度来分析。第(2)题,捷列克河三角洲的形成主要从河流上下游的地势、河流的侵蚀作用、流速、含沙量等方面分析。第(3)题,本题为开放性试题。若赞同,可从该流域水能资源较丰富、水能资源的利用对生态环境的有利影响等方面进行分析;若反对,可从该河流域降水少及大多数河段地势平坦,水能资源不太丰富,且当地拥有丰富的石油资源等方面进行分析。

答案:(1)与M地以下河段相比,M地以上河段支流较多,流域面积较大;距海较近,气候海洋性特征较强,降水较多;M地以上河段流经山区,蒸发弱。(6分)

(2)捷列克河上游地势陡峭,河流侵蚀作用强,河流含沙量较大;河流下游地势平坦开阔,河水流速减慢,所携带的泥沙大量淤积而逐渐形成捷列克河三角洲。(8分)

(3)赞同。理由:河流上游落差大,水能资源较丰富;水能资源为清洁能源,开发利用水能可减轻对大气的污染和对生态环境的破坏。

或反对。理由:捷列克河位于西风带背风坡,年降水量较小,河流流量较小;该河流域大部分地区地势平坦,落差小,水能资源不很丰富;里海有丰富的石油资源。(8分)

14.解析:根据材料提示,休闲农业以服务城市人口为目标,我国休闲农业接待人数增多,说明休闲农业接待大量城市人口,所以以城市人口为对象进行分析。休闲农业发展对我国乡村发展的积极影响主要包括经济收入、产业结构、文化交流、基础设施等方面。

答案:原因:休闲农业的旅游活动内容多样、富有特色,对城市居民具有较大的吸引力;城市居民收入增加;闲暇时间增多;居民对高品质生活的追求。影响:改善乡村基础设施和服务设施;增加经济收入;促进产业结构优化,缓解土地压力;促进文化交流,改变生活方式。(10分)

15.解析:滇池的功能跟湿地的功能相似,故根据所学湿地的功能知识来回答即可。滇池受污染难以治理的主要原因除了与大量废水排入有关外,还与滇池的自净能力较差有关。

答案:生态功能:调节气候;净化水体;美化环境;保护生物多样性等。原因:工农业生产及生活废水大量排入;滇池属于内陆湖,自净能力差。(10分)