




义务教育教科书

# 数学

## 二年级 下册



人民教育出版社



义务教育教科书

# 数学

二年级  
下册

人民教育出版社 课程教材研究所  
小学数学课程教材研究开发中心 | 编著 |

人民教育出版社

· 北京 ·

主 编：卢 江 杨 刚  
副 主 编：王永春 陶雪鹤

主要编写人员：刘品一 梁秋莲 向鹤梅 曹艺冰 李晓梅 陶雪鹤 王永春  
丁国忠 张 华 周小川 熊 华 刘 丽 刘福林

责任编辑：刘 丽

美术编辑：郑文娟

封面设计：吕 旻 郑文娟

版式设计：北京吴勇设计工作室

插 图：北京吴勇设计工作室（含封面）

义务教育教科书 数学 二年级 下册  
人民教育出版社 课程教材研究所  
小学数学课程教材研究开发中心 编著

出 版 人民教育出版社

（北京市海淀区中关村南大街 17 号院 1 号楼 邮编：100081）

网 址 <http://www.pep.com.cn>

重 印 江西教材经营有限公司

发 行 江西新华发行集团有限公司

印 刷 江西新华印刷发展集团有限公司

版 次 2013 年 10 月第 1 版

印 次 2019 年 12 月第 7 次印刷

开 本 787 毫米 × 1092 毫米 1/16

印 张 8

字 数 160 千字

书 号 ISBN 978-7-107-27488-6

定 价 8.05 元

版权所有·未经许可不得采用任何方式擅自复制或使用本产品任何部分·违者必究

如发现内容质量问题，请登录中小学教材意见反馈平台：[jcyjfk.pep.com.cn](http://jcyjfk.pep.com.cn)

如发现印、装质量问题，影响阅读，请与印厂联系调换。电话：0791-86237940、87583880

江西教材经营有限公司教材印制质量投诉电话：0791-85897213


# 编者的话

亲爱的小朋友：

新学期开始了，  
你们呢！



在数学王国里等着你们呢！



这些是什么现象？



加油！



小朋友们，让我们和小精灵一起去探索数学的奥秘吧！

编者  
2013年5月

# 目 录

1 数据收集整理 2

2 表内除法（一） 7

3 图形的运动（一） 28

4 表内除法（二） 37

5 混合运算 47

6 有余数的除法 59





小小设计师

72



万以内数的认识

74



克和千克

100



数学广角  
——推理

109



总复习

113



## 1

## 数据收集整理

1 学校要给同学们订做校服，有下面4种颜色，选哪种颜色合适？



红



黄



蓝



白

应该选大多数同学最喜欢的颜色。



怎么知道哪种颜色是大多数同学最喜欢的呢？

可以在全校进行调查。



全校学生那么多，怎样调查呢？哦！可以先在班里进行调查。

可以先在班里像下面这样调查。



也可以……

每人只能选一种颜色。最喜欢红色的同学请举手。



颜色	红色	黄色	蓝色	白色
人数	9	6	15	8

- (1) 全班共有 ( ) 人。
- (2) 最喜欢 ( ) 色的人数最多。
- (3) 如果这个班订做校服，选择 ( ) 色合适。全校选这种颜色做校服合适吗？为什么？

## 2 学校要举办讲故事大赛。



我们班要从这两位同学中选一位参加比赛。

王明明



陈小菲

可以用投票的方法来决定谁参加比赛。



你喜欢哪种记录方法？



把上面的统计结果填入下表。

姓名	王明明	陈小菲
票数		

- (1) 根据统计结果，应该选（ ）参加比赛。
- (2) 有两位同学缺勤没能参加投票，如果他们也投了票，结果可能会怎样？

### 做一做

调查本班同学最喜欢去哪里春游。

地点	植物园	动物园	游乐园	森林公园	河滨公园
人数					





- (1) 最喜欢去（ ）的人数最多，最喜欢去（ ）的人数最少。
- (2) 最喜欢去植物园的有（ ）人。
- (3) 我最喜欢去（ ），喜欢去这里的同学有（ ）人。

# 练习一



1.

调查本班同学最喜欢参加哪个课外小组。

课外小组					
人数					

- (1) 参加 ( ) 小组的人数最多, 参加 ( ) 小组的人数最少。
- (2) 我们班参加计算机小组的有 ( ) 人。
- (3) 我最喜欢 ( ) 小组, 喜欢这个小组的有 ( ) 人。




2. 调查本班同学最喜欢哪一个季节, 把结果填入下表。

季节	春	夏	秋	冬
人数				



- (1) 最喜欢哪个季节的人数最多?
- (2) 如果组织同学们去游玩, 最好应安排在哪个季节?
- (3) 你还能提出其他数学问题并解答吗?

3. 右面是小明记录的一个月的天气情况。


(1) 把记录的结果填在下表中。

天气			
天数			

	正 正 正
	正 正 丁
	正

- (2) 这个月共有多少天?  比  多几天?
- (3) 这个月属于哪个季节?

4. 几个同学正在统计一个路口 10 分钟内所通过的各种交通工具的数量。



- (1) 把他们统计的结果填在下表中。

种类				
辆数				

这个路口 10 分钟内所通过的哪种车最多？哪种车最少？

- (2) 如果再观察 10 分钟，哪种车通过的数量可能最多？

5.

本周图书借阅情况

图书种类	童话	漫画	儿歌	其他
借阅人数	11	18	9	8




- (1) 借阅童话书的有 ( ) 人。
- (2) 借阅 ( ) 书的人最多。
- (3) 图书室要新买一批图书，你有什么建议？

6. 调查全班同学最喜欢吃哪一种水果。


水果	苹果	梨	香蕉	橘子	
人数					

- (1) 最喜欢吃 ( ) 的人数最多, 最喜欢吃 ( ) 的人数最少。
- (2) 我最喜欢吃 ( ) , 全班最喜欢吃这种水果的有 ( ) 人。
- (3) 班里要开联欢会, 请你根据调查结果, 说说买哪几种水果合理。

7.



每个  表示 1 份《电视报》。

- (1) 哪天卖出《电视报》的数量最多? 哪天最少?
- (2) 你还能发现什么? 你能提出什么建议?
- (3) 如果每个  表示 2 份《电视报》, 上面的图应该怎样画?

本单元结束了,  
你想说些什么?

成长小档案



我学会通过调查收集数据了。

我发现用“正”字记录数据很方便。

