



义务教育教科书

# 数学

三年级  
下册



人民教育出版社





义务教育教科书

# 数学

三年级  
下册

人民教育出版社 课程教材研究所  
小学数学课程教材研究开发中心 | 编著 |

人民教育出版社

· 北京 ·

主 编：卢 江 杨 刚

副 主 编：王永春 陶雪鹤

主要编写人员：袁玉霞 曹培英 陶雪鹤 王永春 丁国忠

张 华 周小川 熊 华 刘 丽 刘福林

责任编辑：周小川

美术编辑：郑文娟

封面设计：吕 旻 郑文娟

版式设计：北京吴勇设计工作室

插 图：北京吴勇设计工作室（含封面）

义务教育教科书 数学 三年级 下册

人民教育出版社 课程教材研究所  
小学数学课程教材研究开发中心 编著

出 版 人民教育出版社

（北京市海淀区中关村南大街 17 号院 1 号楼 邮编：100081）

网 址 <http://www.pep.com.cn>

重 印 江西教材经营有限公司

发 行 江西新华发行集团有限公司

印 刷 江西新华印刷发展集团有限公司

版 次 2014 年 10 月第 1 版

印 次 2019 年 12 月第 6 次印刷

开 本 787 毫米 × 1092 毫米 1/16

印 张 7.5

字 数 150 千字

书 号 ISBN 978-7-107-29390-0

定 价 7.60 元

版权所有·未经许可不得采用任何方式擅自复制或使用本产品任何部分·违者必究

如发现内容质量问题，请登录中小学教材意见反馈平台：[jcyjfk.pep.com.cn](http://jcyjfk.pep.com.cn)

如发现印、装质量问题，影响阅读，请与印厂联系调换。电话：0791-86237940、87583880

江西教材经营有限公司教材印制质量投诉电话：0791-85897213



# 编者的话

亲爱的小朋友：

数学就在我们身边，我们总会遇到她。



儿童票标高线



让我们一起动手动脑，和数学成为好朋友吧！

编者  
2013年5月

# 目 录

1 位置与方向（一） 2

2 除数是一位数的除法 11

3 复式统计表 36

4 两位数乘两位数 41

5 面积 60

6 年、月、日 76

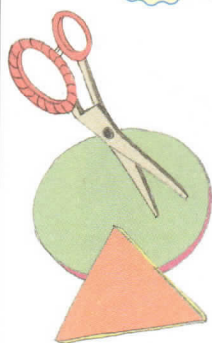
★	制作活动日历	90
---	--------	----

7	小数的初步认识	91
---	---------	----

8	数学广角 ——搭配（二）	101
---	-----------------	-----

★	我们的校园	106
---	-------	-----

9	总复习	108
---	-----	-----





# 1

## 位置与方向（一）





1

早晨，太阳在东方。



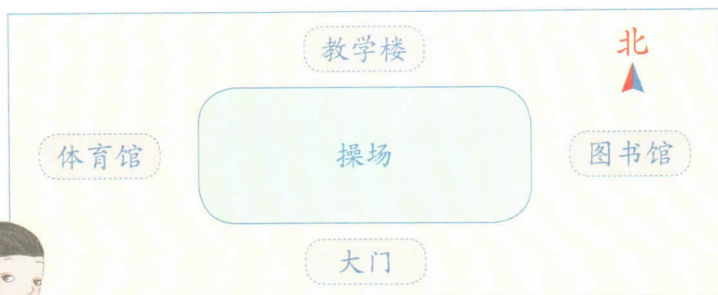
图书馆在校园的东面，体育馆在校园的 \_\_\_\_\_ 面。  
教学楼在校园的 \_\_\_\_\_ 面，大门在校园的 \_\_\_\_\_ 面。

做一做



2

下面是我们学校的示意图。



地图通常是按上北下南，左西右东绘制的。



大门在操场的下面，就是在操场的南面。

▲ 指的方向是北。

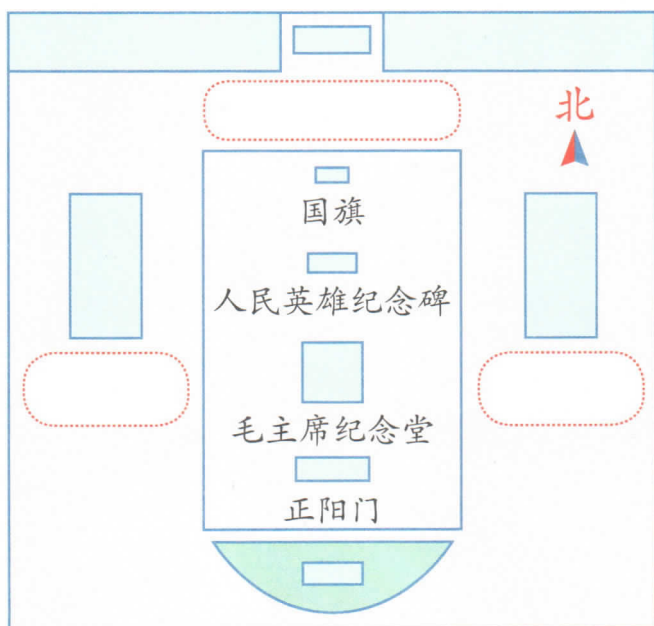


教学楼在操场的（ ）面，体育馆在操场的（ ）面。  
操场在图书馆的（ ）面，图书馆在体育馆的（ ）面。  
教学楼在大门的（ ）面，大门在教学楼的（ ）面。

### 做一做

根据下面的描述标明天安门地区示意图中的建筑物。

- (1) 天安门城楼在国旗的北面。
- (2) 人民大会堂在人民英雄纪念碑的西面。
- (3) 中国国家博物馆在人民英雄纪念碑的东面。





# 练习一


1. 说一说，教室里的东、南、西、北面各有什么。

2.



像这样说一说，你的房间是怎样布置的。

3.



北

(1) 邮局在公园的( )面，学校在公园的( )面。

(2) 小娟家在学校的( )面，小娟家在小峰家的( )面。

(3) 体育馆在博物馆的( )面，体育馆在学校的( )面。

4.



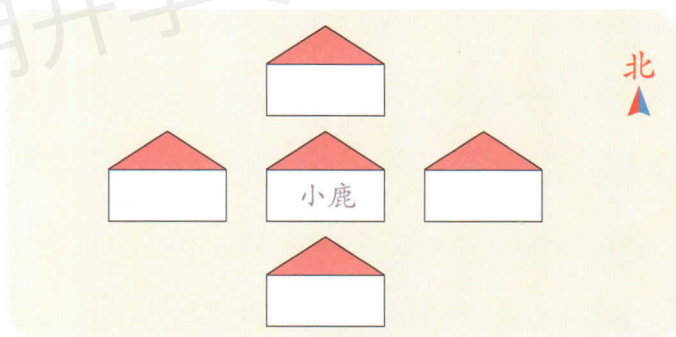
我国有五座名山，合称“五岳”。它们分别是中岳嵩山、东岳泰山、南岳衡山、西岳华山、北岳恒山。

你能在图上找到它们吗？



5. 想一想，填一填你们学校周围有什么。

6. 小兔、小羊、小马和小狗要搬进下面的新家了。请你给它们安排好房间，并说一说它们分别住在小鹿家的什么方向。



### ◎ 你知道吗？ ◎

指南针是用来指示方向的。早在二千多年前，我们的祖先就用磁石制作了指示方向的仪器——司南，后来又发明了罗盘。指南针是我国古代四大发明之一。



司南




古代罗盘



指南针



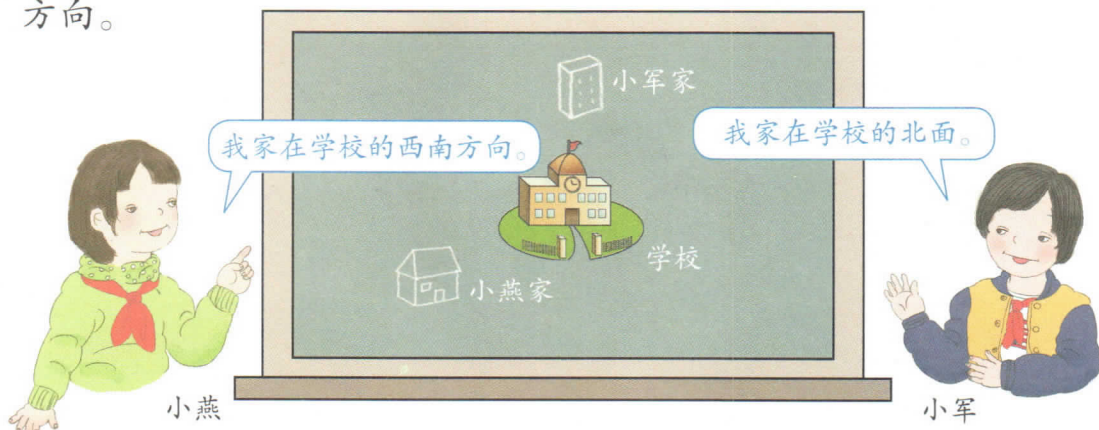


餐厅在校园的( )角, 存车处在校园的( )角, 科技楼在校园的( )角。

餐厅在存车处的( )方向, 科技楼在多功能厅的( )方向, 多功能厅在科技楼的( )方向。

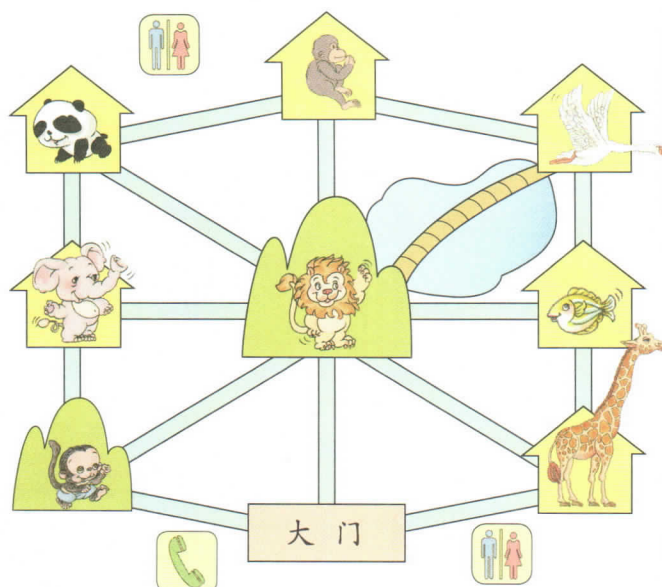
### 做一做

在黑板上标出自己家的位置, 并说一说自己家在学校的位置。



## 动物园导游图

北



我要去看熊猫，  
应该向什么方  
向走呢？

小平

我先去看狮子，  
再去猴山，应  
该怎么走呢？

文文

熊猫馆在西北角。

去熊猫馆，可以先到  
狮山，再向西北走。  
也可以……

- (1) 帮小平和文文解决他们的问题。
- (2) 同桌互相提出问题，并且试着解答。

## ◎ 生活中的数学 ◎

我能在夜空中  
找到北斗星。


燕子每年都是从北方  
飞往南方过冬。

今天刮西北风。



## 练习二

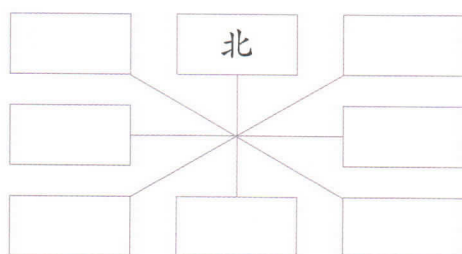
1.



说一说，十字路口四周的店铺分别在什么位置上。

2. 找一幅中国地图，指一指北京在你家乡的什么方向上。

3. 完成下面的方位示意图。



说一说哪两个方向是相对的。




4. (1) 80 里面有 ( ) 个十，400 里面有 ( ) 个百。

(2) 46 里面有 ( ) 个十和 ( ) 个一，

39 里面有 ( ) 个十和 ( ) 个一。

5.



(1) 森林中的小动物各住在什么位置？

(2) 小熊的送货路线是



6. 根据例 4 中的“动物园导游图”回答问题。

(1) 熊猫馆在动物园的( )角，飞禽馆在动物园的( )角。


(2) 猴山在狮山的( )方向，长颈鹿馆在狮山的( )方向。

(3) 说一说其他动物分别在狮山的什么方向。

(4) 熊猫馆在长颈鹿馆的( )方向，长颈鹿馆在熊猫馆的( )方向。

(5) 海洋馆在大门的( )方向，大门在海洋馆的( )方向。

7. 小健说：“走进游乐园大门，正北面有花坛和高空观览车。花坛的东侧是过山车，西侧是旋转木马。卡丁车和碰碰车的场地分别在游乐园的西北角和东北角……”根据小健的描述，把这些游乐项目用序号标在适当的位置上。



①过山车 ②旋转木马 ③卡丁车 ④碰碰车 ⑤高空观览车

本单元结束了，  
你想说些什么？

成长小档案



只要知道了北，我就能分清东、南、西三个方向了。

我会看地图了。

